

光による現象

# レンズのはたらき 1 (凸レンズによる光の屈折)

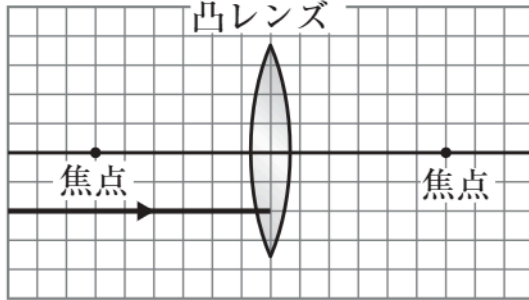
**B**



5分

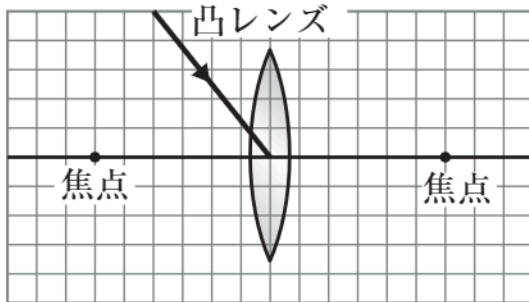
1. 次の(1)~(4)のように、凸レンズに入射した光は、凸レンズを通過後どのように進むか。それぞれ図にかき入れなさい。

(1)



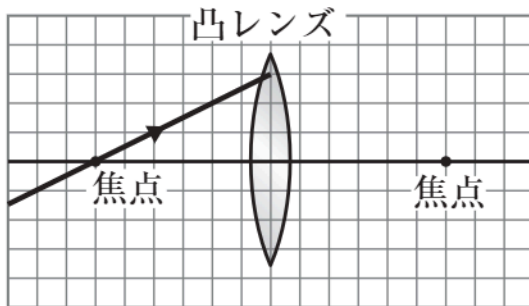
[1]

(2)



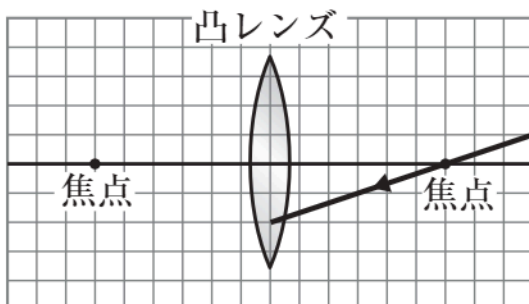
[2]

(3)



[3]

(4)



[4]